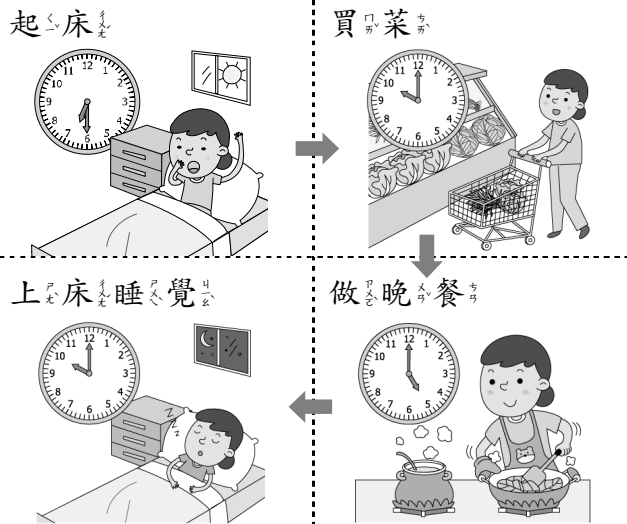


一、下面圖是媽媽的一天，
 看看圖表圖表看看：每題 4
 分，共 12 分



- 媽媽在 (上午, 下午) 6 時 30 分起床。
- (上午, 下午) 5 時, 媽媽正在做晚餐。
- 上午 10 時, 媽媽在做什麼?
 (買菜, 上床睡覺)

二、左邊算式和右邊哪個算式的答案較接近? 請打 \checkmark : 每題 1 分, 共 2 分

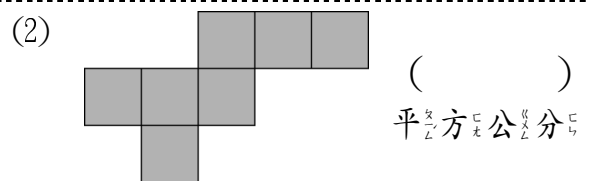
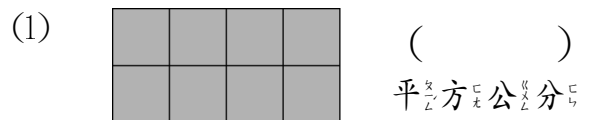
- 49×8 40×8 50×8
- 6×302 6×300 6×400

三、寫出直式算式看看：每題 2 分, 共 4 分

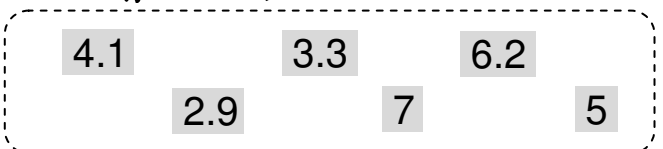
- $7.3 + 4.7$
 $= (\quad)$
- $2.25 - 3.9$
 $= (\quad)$

四、填填看看：每格 3 分, 共 24 分

- 1 盒麻糬有 10 個, 1 個是 0.1 盒。
 (1) 2 個是 () 盒。
 (2) 6 盒和 5 個合起來是 () 盒。
- 3 個 1 和 18 個 0.1 合起來是 ()。
- 3 分鐘 42 秒 = () 秒
- 填入 $<$ 、 $=$ 或 $>$:
 (1) 7 分鐘 7 小時
 (2) 1 小時 50 分鐘 105 分鐘
- 每個方格都是 1 平方公分, 數數看看, 下面圖形的面積各是多少平方公分?



五、下面哪些數比 3.6 大, 而且比 6.3 小? 圖表看看: 6 分



六、算出 () 中的數: 每題 2 分, 共 4 分

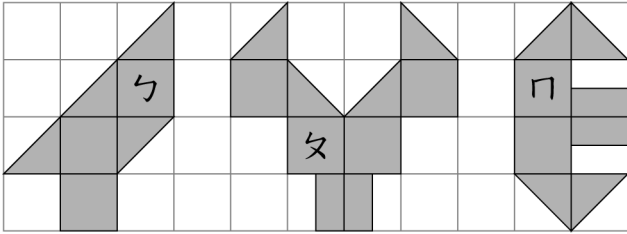
1. $5 \times (\quad) = 535$

2. $(\quad) \div 7 = 86$

七、看圖填填看看：每格 3

分，共 18 分

▲ 每個方格是 1 平方公分



1. ㄅ 的面積：_____ 平方公分

ㄆ 的面積：_____ 平方公分

ㄇ 的面積：_____ 平方公分

2. 哪兩個圖形的面積相同？_____ 和 _____

3. ㄏ 和 ㄇ 的面積合起來是 _____ 平方公分。

八、寫出做法和答案，並

驗算：每題 6 分，共

12 分

1. 甜點師傅做了 156 個馬芬蛋糕，每 4 個裝成一袋，可以裝成幾袋？

驗算：

2. 農場採收了 340 個火龍果，平分裝成 9 箱，每箱最多有幾個？剩下幾個火龍果？

驗算：

九、先用算式記下來，再

用直式計算看看：每題

3 分，共 6 分

▲ 黑繩長 3.9 公尺，白繩長 0.8 公尺。

1. 2 條白繩共長幾公尺？

2. 黑繩用掉幾公尺後會剩下 2 公尺？

十、把做法和答案記下來：

每題 6 分，共 12 分

1. 電影在下午 3 時 52 分播映完畢，片長共 1 小時 45 分鐘，電影在下午幾時幾分開始播映？

2. 一包珠子有若干顆，小君買了 6 包，共有 270 顆，一包珠子有幾顆？