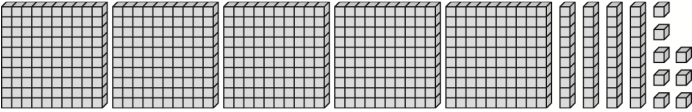
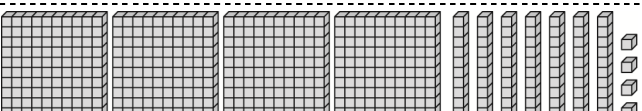
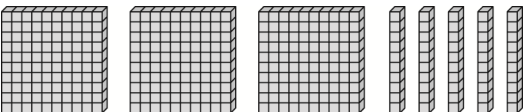



一 數一數，並回答問題。(每格2分，共24分)


1.  有(5)個百、(4)個十和(8)個一，合起來是(548)。

2.  有(4)個百、(7)個十和(4)個一，合起來是(474)。

3.  有(3)個百、(5)個十和(0)個一，合起來是(350)。

二 錢包裡有多少元？(每題2分，共4分)

1.  (542)元

2.  (936)元

三 在□裡填入<或>。(每題1分，共8分)

- 1. 140 < 148
- 2. 867 > 767
- 3. 453 > 403
- 4. 700 > 699
- 5. 855 < 859
- 6. 750 > 659
- 7. 667 < 701
- 8. 899 < 901

四 填填看。(每題2分，共14分)

- 1. 6個百、2個十和1個一，合起來是(621)。
- 2. 9個百和8個一，合起來是(908)。
- 3. 764是(7)個百、6個十和4個一合起來的。
- 4. 1張500、3張100和7個10，一共是(870)元。
- 5. 1張500可以換(5)張100。
- 6. 1張1000可以換(100)個10。
- 7. 用9、8、0、4選出三個數，排出最大的三位數是(984)。

五 畫底線的數字表示什麼？連連看。(每題2分，共10分)

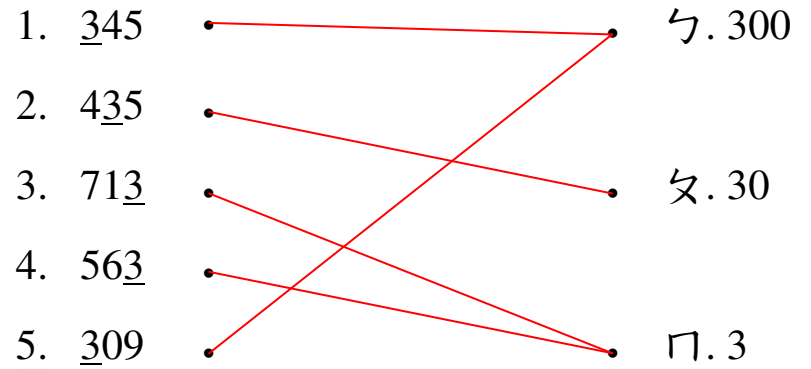
1. 345 300

2. 435 30

3. 713 3

4. 563 300

5. 309 3

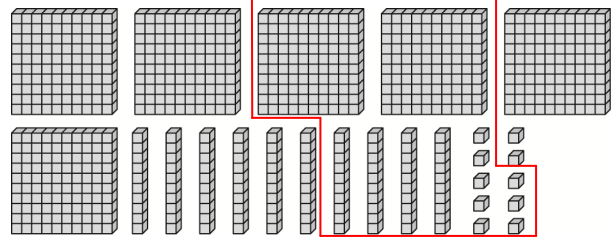


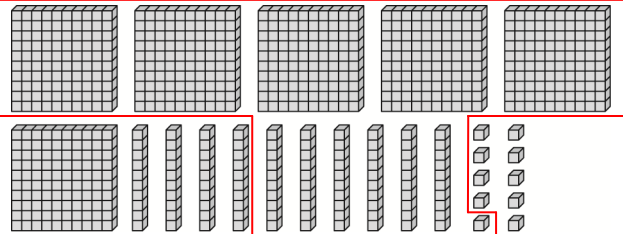
六 依照數的順序填填看。(每格2分，共24分)

- 1. 597—598—(599)—(600)—601—(602)
- 2. 470—480—(490)—(500)—(510)—520
- 3. 385—395—(405)—415—(425)—(435)
- 4. 222—221—(220)—(219)—(218)—217



七 圈圈看。(每小題4分，共16分)

1. 圈出正確的數量。(圈法僅供參考)

(1) 248 


(2) 561 

2. 誰的錢比較多？

<p>美惠</p> 	<p>娟娟</p> 
---	---

(美惠 , 娟娟) 的錢比較多

3. 宣宣買一本218元的故事書，要怎麼付錢才會剛好？(圈法僅供參考)




一 下面生活用品哪個比較重？

圈圈看。(每題4分，共16分)

1.

電風扇

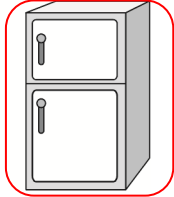
手套



2.

書包

冰箱



3.

籃球

羽毛球



4.

橡皮擦

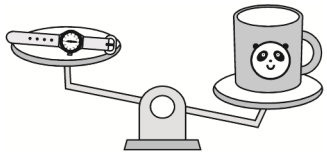
水壺



二 在()裡打✓。(每小題4分，共28分)

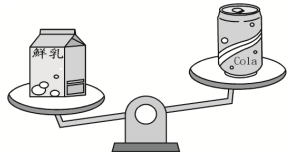
1. 比較輕的在()裡打✓。

(1)



(✓) ()

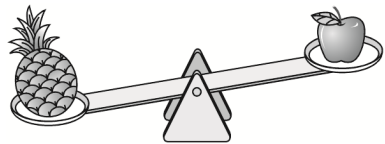
(2)



() (✓)

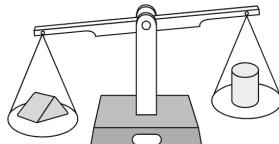
2. 比較重的在()裡打✓。

(1)



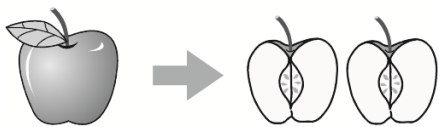
(✓) ()

(2)



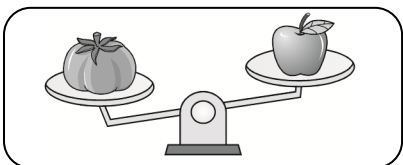
(✓) ()

3. 把蘋果切成2塊，哪一個比較重？在()裡打✓。




- ()
- ()
- (✓) 一樣重

4. 把下面天平兩端的水果交換位置後，哪張圖是正確的？




(1)



()


(2)



(✓)

三 看圖做做看。(每答4分，共56分)

1.

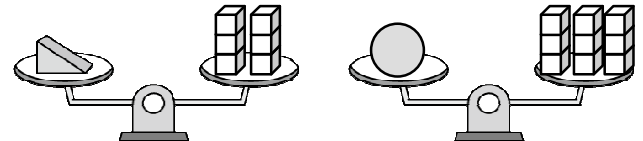


(1) 和(5)個 一樣重。

(2) 和(6)個 一樣重。

(3) (,) 比較重。

2. 看圖比比看，回答下面問題。



(1) 和(6)個 一樣重。

(2) 和(9)個 一樣重。


(3) 一個 和一個 ，合起來和(15)個 一樣重。

(4) 一個 比一個 重(3)個 。

(5) 5個 和(30)個 一樣重。

(6) 3個 和(27)個 一樣重。


3. 比比看，比較重的打✓。



() (✓)

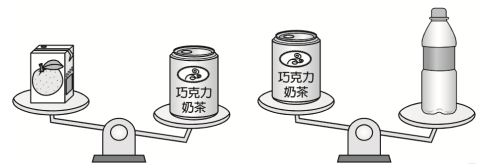
4. 比比看，最重的打✓，最輕的畫○。

(1)



丘丘 田田 丘丘 皮皮
() (✓) (○)

(2)



(○) () (✓)

一 寫成直式算算看。(每題6分,共36分)

1. $168 + 351 = (519)$ 2. $643 + 36 = (679)$

$$\begin{array}{r}
 1 \\
 168 \\
 + 351 \\
 \hline
 519
 \end{array}$$

$$\begin{array}{r}
 643 \\
 + 36 \\
 \hline
 679
 \end{array}$$

3. $259 + 578 = (837)$ 4. $736 - 24 = (712)$

$$\begin{array}{r}
 11 \\
 259 \\
 + 578 \\
 \hline
 837
 \end{array}$$

$$\begin{array}{r}
 736 \\
 - 24 \\
 \hline
 712
 \end{array}$$

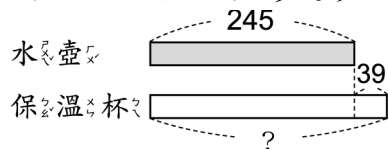
5. $574 - 327 = (247)$ 6. $824 - 461 = (363)$

$$\begin{array}{r}
 610 \\
 574 \\
 - 327 \\
 \hline
 247
 \end{array}$$

$$\begin{array}{r}
 710 \\
 824 \\
 - 461 \\
 \hline
 363
 \end{array}$$

二 看圖算算看。(每題6分,共12分)

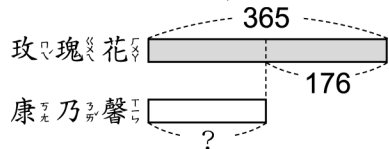
1. 一個水壺賣 245 元，一個水壺比一個保溫杯便宜 39 元，一個保溫杯要多少元？



$245 + 39 = 284$

答：(284) 元

2. 花店有 365 朵玫瑰花，玫瑰花比康乃馨多 176 朵，花店有幾朵康乃馨？



$365 - 176 = 189$

答：(189) 朵

三 估估看，把對的答案圈起來。(每題6分,共12分)

1. 叔叔買 498 元的字典和一本 296 元的相簿，大約是幾百元？
(500 元， 700 元， **800 元**)。

2. 宜恩有 500 元，他買一個 297 元的水壺後，剩下的錢夠買一個 295 元的書包嗎？
(夠， **不夠**)。

四 先記錄問題，再算算看。(每題8分,共40分)

1. 超商裡有 158 瓶可樂和 193 瓶果汁，這兩種飲料共有幾瓶？

$158 + 193 = (351)$

$$\begin{array}{r}
 11 \\
 158 \\
 + 193 \\
 \hline
 351
 \end{array}$$

答：(351) 瓶

2. 早餐店做了 238 個漢堡，賣出 176 個，早餐店剩下幾個漢堡？

$238 - 176 = (62)$

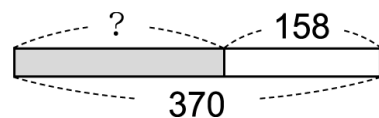
$$\begin{array}{r}
 110 \\
 238 \\
 - 176 \\
 \hline
 62
 \end{array}$$

答：(62) 個

3. 箱子裡有一些紙張，媽媽又放進 158 張，箱子裡共有 370 張。箱子原本有幾張紙？

$(212) + 158 = 370$

或 $370 - 158 = (212)$



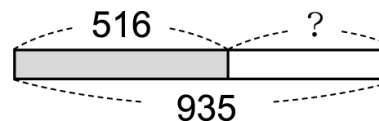
$$\begin{array}{r}
 610 \\
 370 \\
 - 158 \\
 \hline
 212
 \end{array}$$

答：(212) 張

4. 圖書館裡有 516 本歷史故事書和一些漫畫書，這兩種書籍共有 935 本。圖書館裡有幾本漫畫書？

$516 + (419) = 935$

或 $935 - 516 = (419)$



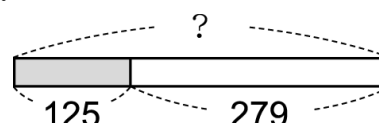
$$\begin{array}{r}
 210 \\
 935 \\
 - 516 \\
 \hline
 419
 \end{array}$$

答：(419) 本

5. 妮妮有一些錢，到文具店買了 125 元的水彩，還剩下 279 元。妮妮原本有幾元？

$(404) - 125 = 279$

或 $125 + 279 = (404)$




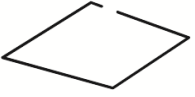
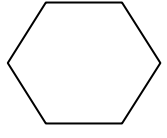
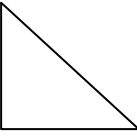


$$\begin{array}{r}
 11 \\
 125 \\
 + 279 \\
 \hline
 404
 \end{array}$$

答：(404) 元

一 對的畫○，錯的打X。(每題3分，共15分)

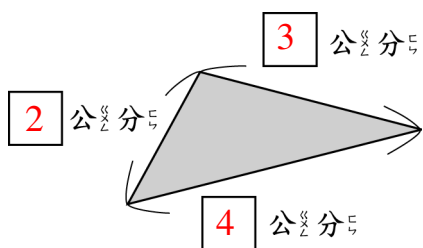
- (X) 長方體的每一個面都是正方形。1.也有長方形
- (X) 長方體的每一條邊都一樣長。2.不一定
- (X) 正方體和長方體都有4個面。3.有6個面
- (O) 正方形的每一條邊都一樣長。
- (O) 正方形和長方形都有4個角。

二 哪些圖形有周界？請打√。(每題1分，共6分)

-  (√)
-  ()
-  (√)
-  (√)
-  (√)
-  ()

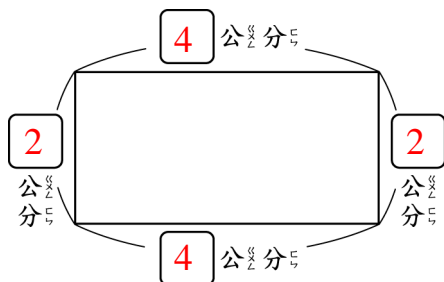
三 先量出圖形的邊長，再算出圖形的周長。(每格3分，共27分)

1. 三角形



周長是(9)公分。

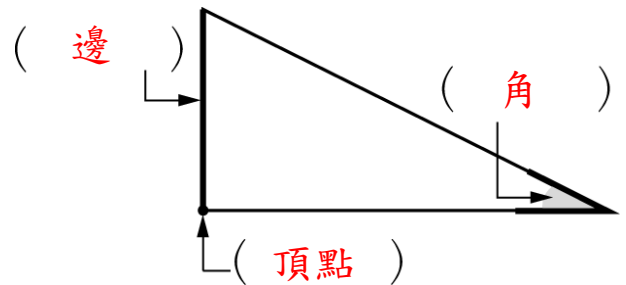
2. 長方形



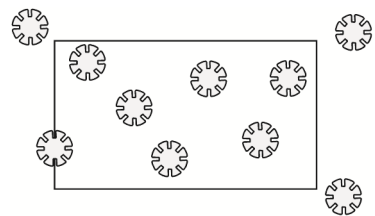
周長是(12)公分。

四 看圖回答問題。(每格4分，共36分)

- 填入下面圖形的「邊」、「角」或「頂點」。

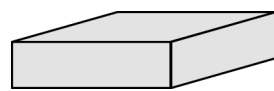


- 澤言在丟花片，他在地上畫了一個長方形。



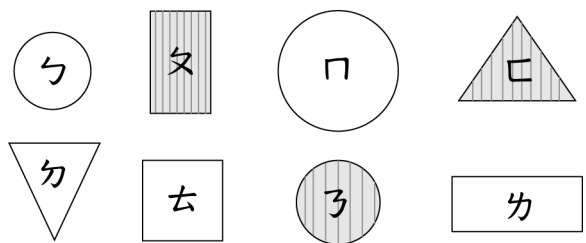
- 長方形內部有(6)個花片。
- 長方形外部有(3)個花片。
- 長方形周界上有(1)個花片。

- 下面是個長方體。



長方體有(6)個面，有(12)條邊，有(8)個頂點。

五 看圖分一分，用代號記錄下來。(每答1分，共16分)



有角		沒有角	
ㄆ ㄎ ㄎ		ㄅ ㄇ ㄌ	
有花紋	沒有花紋	有花紋	沒有花紋
ㄆ	ㄏ ㄎ	ㄌ	ㄅ ㄇ

一 把答案一樣的计算式連起來。
 (每題2分，共10分)

1. 3×8 2×10

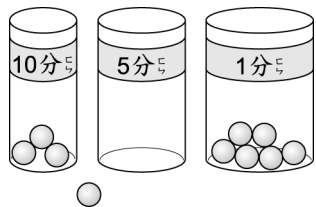
2. 10×2 8×3

3. 7×6 6×7

4. 4×3 5×9

5. 9×5 3×4

二 看圖填填看。小玉玩投球遊戲，沒有丟進的球得0分，下面是他丟球的結果。(每格2分，共34分)



1. 小玉每種分數各得幾分？寫出乘法算式。

- (1) 丟進10分的有(3)個。
 得分： $(10) \times (3) = (30)$
- (2) 丟進5分的有(0)個。
 得分： $(5) \times (0) = (0)$
- (3) 丟進1分的有(6)個。
 得分： $(1) \times (6) = (6)$
- (4) 沒有丟進的有(1)個。
 得分： $(0) \times (1) = (0)$

2. 小玉共得(36)分。

三 完成下面表格，再回答問題。
 (每格2分，共14分)

		乘數			
×	3	5	7	8	
被乘數	3	9	15	21	24
乘數	5	15	25	35	40
數	7	21	35	49	56

寫出積都是35的乘法算式。

$5 \times 7 = 35$ 、 $7 \times 5 = 35$

四 看圖做做看。(每答2分，共18分)

1. 共有幾顆蘋果？填填看。

(1) 橫的一排有6顆：
 $6 \times (5) = (30)$

(2) 直的一排有5顆：
 $5 \times (6) = (30)$

答：(30)顆

2. 把表示圖片中□數量的算式連起來。

① \rightarrow 3×8

② \rightarrow 8×3

Options:
 • 12×3
 • 3×8
 • 3×12
 • 8×3

五 寫出乘法算式做做看。(每題6分，共24分)

1. 一束花有12朵，曉萱買了3束，共有幾朵花？

$12 \times 3 = 36$

答：(36)朵

2. 一盒有3個月餅，爸爸做了13盒，爸爸共做了幾個月餅？

$3 \times 13 = 13 \times 3 = 39$

答：(39)個

3. 做一串手鍊要11顆珠子，美環做了2串，共要幾顆珠子？

$11 \times 2 = 22$

答：(22)顆


4. 一包有14顆糖果，斑比買了2包，共有幾顆糖果？

$14 \times 2 = 28$

答：(28)顆

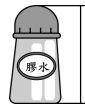
一 生活中，下面哪一些物品比1公尺長？請打 \checkmark 。(每題2分，共12分)

1. 大貨車



(\checkmark)

2. 膠水



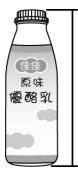
()

3. 床



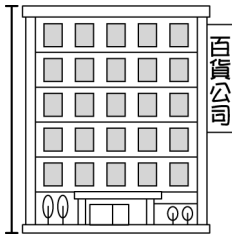
(\checkmark)

4. 優酪乳



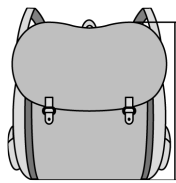
()

5. 大樓




(\checkmark)

6. 書包




()

二 填填看看。(每格3分，共48分)



緞帶的長度是 (1) 公尺
(53) 公分，也可以說是
(153) 公分。



腳踏車的長度是 (1) 公尺
(68) 公分，也可以說是
(168) 公分。

3. 班級書櫃的長和3條1公尺的繩子接起來一樣長，是 (3) 公尺。

4. 籃球場地的長和28條1公尺的繩子接起來一樣長，是 (28) 公尺。

5. 7公尺 = (700) 公分

6. 6公尺 8公分 = (608) 公分

7. 570公分 = (5) 公尺 (70) 公分

8. 289公分 = (2) 公尺 (89) 公分

9. 4公尺 32公分 = (432) 公分

10. 7公尺 20公分 = (720) 公分

三 圈出適當的單位。(每題4分，共16分)

1. 一枝鉛筆長18 (公尺, 公分)。

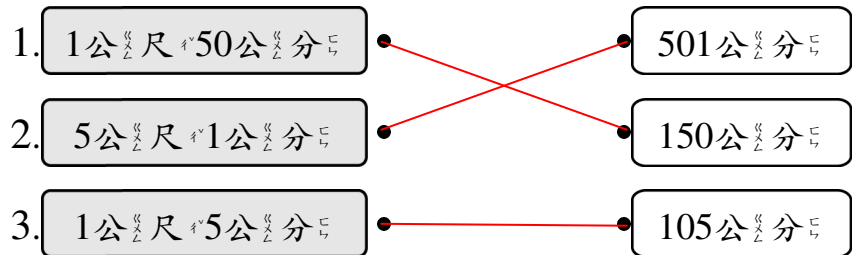
2. 籃球框高3 (公尺, 公分)。

3. 桌子高95 (公尺, 公分)。

4. 布告欄長3 (公尺, 公分)。


四 把長度一樣長的連起來。

(每條連線2分，共6分)



五 做做看看。(每答3分，共18分)

1. 看圖圈圈看看。



(1) (機車, 汽車) 的車身比較長。

(2) (公車, 汽車) 的車身比較長。

(3) 機車和公車，哪個比較長？
(機車, 公車) 的車身比較長。

2. 公園的椰子樹比梯子高，梯子比榕樹高，椰子樹和榕樹，哪一棵樹比較高？

(椰子樹, 榕樹) 比較高。

3. 婷婷一叔大約長10公分，教室窗戶長度和婷婷6叔一樣長，教室窗戶長度大約長 (60) 公分；海報長度和婷婷9叔一樣長，海報長度大約長 (90) 公分。

一 填填看看。(每格2分,共28分)

1. 一瓶牛奶賣 10 元, 琦琦買了 6 瓶後, 錢包還剩下 36 元, 琦琦的錢包原來有幾元?

$$(10) \times (6) = (60)$$

$$(60) + (36) = (96)$$

答: (96) 元

2. 一包蛋餅有 8 片, 媽媽買了 5 包, 吃掉 9 片後, 還剩下幾片蛋餅?

$$(8) \times (5) = (40)$$

$$(40) - (9) = (31)$$

答: (31) 片

二 哪個做法是對的? 請在 ()

中打 \checkmark 。(每題4分,共8分)

1. 出版社在辦書展, 繪本每 8 本堆成一疊, 堆成 9 疊會不夠 3 本繪本, 原本有幾本繪本?

$$(\checkmark) \text{ } \text{ } \text{ } \text{ } 8 \times 9 = 72, 72 - 3 = 69$$

$$(\) \text{ } \text{ } \text{ } \text{ } 8 \times 3 = 24, 24 - 9 = 15$$

2. 一盒布丁有 9 個, 妮妮買了 4 盒, 琦琦買了 6 盒, 妮妮比琦琦少買幾個布丁?

$$(\) \text{ } \text{ } \text{ } \text{ } 9 \times 4 = 36, 36 + 4 = 40$$

$$(\checkmark) \text{ } \text{ } \text{ } \text{ } 6 - 4 = 2, 9 \times 2 = 18$$

三 先算什麼? 再算什麼? 做做看看。

(每題8分,共32分)(做法僅供參考)

1. 體操表演中, 每隊各有 5 個男生和 3 個女生, 有 7 隊參加表演, 共有幾個人?

$$5 + 3 = 8$$

$$8 \times 7 = 56$$

答: 56 個人

2. 1 包小籠包有 7 個, 媽媽買了 5 包, 美美吃了 4 個後, 還剩下幾個小籠包?

$$7 \times 5 = 35$$

$$35 - 4 = 31$$

答: 31 個

3. 文郁買了一包毛球做吊飾, 一個吊飾需要 6 個毛球, 文郁做了 4 個吊飾後, 還剩下 21 個毛球, 這包毛球原來有幾個?

$$6 \times 4 = 24$$

$$24 + 21 = 45$$

答: 45 個

4. 一瓶紅茶 17 元, 特價期間每瓶只賣 10 元, 雨蓁買了 5 瓶, 比原來的價錢共便宜幾元?

$$17 - 10 = 7$$

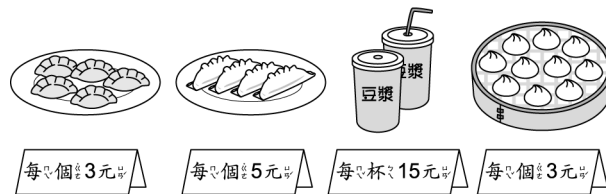
$$7 \times 5 = 35$$

答: 35 元

四 先算什麼? 再算什麼? 做做看看。

(每題8分,共32分)(做法僅供參考)

水餃 煎餃 豆漿 小籠包



1. 安安買了 8 個煎餃加 1 杯豆漿, 共要付多少元?

$$5 \times 8 = 40$$

$$40 + 15 = 55$$

答: 55 元

2. 秋紋買了 10 個水餃, 她付了 50 元, 會找回幾元?

$$3 \times 10 = 30$$

$$50 - 30 = 20$$

答: 20 元

3. 安娜買了 6 個小籠包, 哥哥也買了 6 個小籠包, 共要付幾元?

$$6 + 6 = 12$$

$$3 \times 12 = 36$$

答: 36 元

4. 小郁買了 7 個煎餃, 小花買了 12 個煎餃, 小花比小郁多付幾元?

$$12 - 7 = 5$$

$$5 \times 5 = 25$$

答: 25 元

一 填填看看。(每格3分,共30分)




- 今天()是民國110年()的12月()31日,明天()就是民國()年()月()日。
- 連續()天()就()是一個星期()。
- 每一()年的()第()三()個()月()是() ()月() ,第()四()個()月()是() ()月()。
- 爸爸()的()會()員()卡()再()過()14()個()月()就()到()期() ,14()個()月()也()可()以()說()是() ()年() ()個()月()。
- 隔壁()的()沈()姐()姐()到()英()國()遊()學()了()1()年()3()個()月() ,也()可()以()說()是() () ()個()月()。
- 冬冬()的()貓()咪()已()經()1()歲()9()個()月()大() ,也()可()以()說()是() () ()個()月()大()。

二 看看月曆填填看看。(每格3分,共18分)

4月							5月						
日	一	二	三	四	五	六	日	一	二	三	四	五	六
					1	2	3						1
4	5	6	7	8	9	10	2	3	4	5	6	7	8
11	12	13	14	15	16	17	9	10	11	12	13	14	15
18	19	20	21	22	23	24	16	17	18	19	20	21	22
25	26	27	28	29	30		23	24	25	26	27	28	29
							30	31					

- 4月()有() ()個()星()期()又() ()天() ,5月()有() ()個()星()期()又() ()天() ,
- 冬冬()從()4月()29日()到()5月()5日()要()進()行()游()泳()訓()練() ,一()共()有() ()天() ,是()1()個()星()期()嗎() ? () ()

三 今天()是()1月()28日() ,曉()婷()買()了()3()盒()餅()乾() ,哪()一()盒()餅()乾()的()保()存()期()限()最()先()到() ? 依()照()順()序()填()入()1~3。(每題4分,共12分)

<p>1.</p> <div style="border: 1px solid black; padding: 5px; width: fit-content; margin: 10px auto;">有效日期 8月3日</div>  <p>()</p>	<p>2.</p> <div style="border: 1px solid black; padding: 5px; width: fit-content; margin: 10px auto;">有效日期 4月30日</div>  <p>()</p>	<p>3.</p> <div style="border: 1px solid black; padding: 5px; width: fit-content; margin: 10px auto;">有效日期 5月18日</div>  <p>()</p>
--	--	--

四 看看月曆回答問題。(每答4分,共24分)

民國110年8月						
日	一	二	三	四	五	六
1	2	3	4	5	6	7
8	9	10	11	12	13	14
15	16	17	18	19	20	21
22	23	24	25	26	27	28
29	30	31				

- 8月()有() ()天() ,這()個()月()是() () ()月() ,小()月()。
- 偶像()團()體()從()8月()26日()到()8月()29日()在()大()巨()蛋()舉()行()演()唱()會() ,演()唱()會()共()舉()行()了() ()天()。
- 書()展()從()8月()4日()開()始() ,展()出()12()天() ,在() ()月() () ()日()結()束()。
- 今()天()是()8月()11日() ,小()娟()的()暑()假()到()8月()29日()結()束() ,小()娟()的()暑()假()包()含()今()天() ,還()有() ()天()。

五 先圈圈看看,再填填看看。(每題8分,共16分)

- 姐()姐()從()8月()25日()開()始()織()圍()巾() ,織()了()9()天()才()完()成() ,圍()巾()是() () ()月() () ()日()完()成()的()。

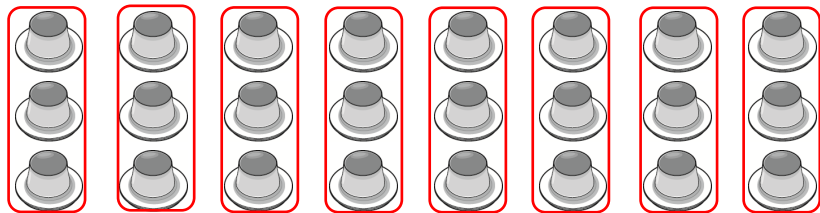
8月							9月						
日	一	二	三	四	五	六	日	一	二	三	四	五	六
1	2	3	4	5	6	7			1	2	3	4	
8	9	10	11	12	13	14	5	6	7	8	9	10	11
15	16	17	18	19	20	21	12	13	14	15	16	17	18
22	23	24	25	26	27	28	19	20	21	22	23	24	25
29	30	31					26	27	28	29	30		

- 文()化()公()園()舉()辦()1()個()星()期()的()音()樂()會() ,在()11月()24日()結()束()。音()樂()會()是()從() () ()月() () ()日()開()始()。

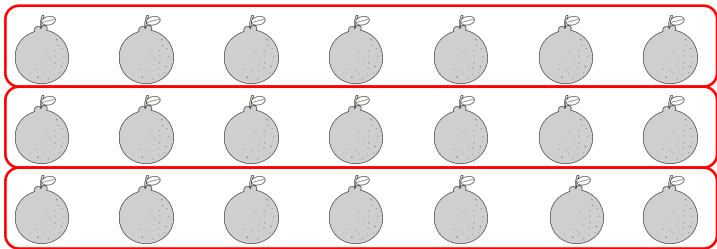
11月						
日	一	二	三	四	五	六
1	2	3	4	5	6	
7	8	9	10	11	12	13
14	15	16	17	18	19	20
21	22	23	24	25	26	27
28	29	30				

一 圈圈看，填填看。(每題8分，共24分)


1. 有 24 個布丁，每 3 個裝成一盒，可以裝成 (8) 盒。(圈法僅供參考)



2. 有 21 顆橘子，每 7 顆裝成一袋，可以裝成 (3) 袋。(圈法僅供參考)




3. 有 32 個人，每 8 個人分成 1 組，可以分成 (4) 組。(圈法僅供參考)



二 正確的打勾。(每小題4分，共28分)

1. 把 6 顆球分給 3 個小朋友，下面哪一個是平分？



2. 可以剛好分完，且分到的數量一樣多的在 () 裡打勾。

(1) () 16 顆草莓平分給 4 個人。

(2) () 18 顆皮球平分給 7 個人。

(3) () 20 顆水梨平分給 5 個人。

3. 桌上有 36 個果凍。分給幾個人可以剛好分完，且分到的數量一樣多？

(1) () 分給 5 個人。

(2) () 分給 6 個人。

三 填填看。(每格4分，共16分)

1. 桌上有 40 顆巧克力。

(1) 每個人分 4 顆，可以分給 (10) 個人。

(2) 每個人分 5 顆，可以分給 (8) 個人。

2. 桌上有 12 顆荔枝。

(1) 平分給 4 個人，每個人可以分到 (3) 顆荔枝。

(2) 平分給 6 個人，每個人可以分到 (2) 顆荔枝。

四 把做法用算式記下來，並算出答案。(每題8分，共32分) (做法僅供參考)

1. 妮妮把 30 張色紙分裝，每 5 張裝成一包，可以分成幾包？

$30 - 5 = 25$ $10 - 5 = 5$ 或 $5 \times 6 = 30$

$25 - 5 = 20$ $5 - 5 = 0$

$20 - 5 = 15$

$15 - 5 = 10$

答： 6包

2. 阿姨有 27 顆番茄要分給小朋友，每 9 顆分給 1 個人，可以分給幾個個人？

$27 - 9 = 18$ 或 $9 \times 3 = 27$

$18 - 9 = 9$

$9 - 9 = 0$

答： 3個人

3. 將 48 枝筆平分給 8 個人，剛好分完，每個人分到幾枝筆？

$48 - 8 = 40$ $16 - 8 = 8$ 或 $6 \times 8 = 48$

$40 - 8 = 32$ $8 - 8 = 0$

$32 - 8 = 24$

$24 - 8 = 16$

答： 6枝

4. 桌上有 35 顆糖果，平分裝在 7 個盒子裡，每個盒子有幾顆糖果？

$35 - 7 = 28$ $7 - 7 = 0$ 或 $5 \times 7 = 35$

$28 - 7 = 21$

$21 - 7 = 14$

$14 - 7 = 7$

答： 5顆

一 下面有等分分的在()裡打 \checkmark 。
(每題3分，共18分)

1. ()	2. ()	3. (\checkmark)
4. (\checkmark)	5. (\checkmark)	6. (\checkmark)

二 先分分看。再塗一塗。
(每題4分，共8分) (塗法僅供參考)

1. 1塊餅乾 	把 $\frac{1}{2}$ 塊餅乾 塗上顏色。
2. 1個披薩 	把 $\frac{1}{4}$ 個披薩 塗上顏色。

三 塗色部分是多少個蛋糕？用分數填填看。(每題6分，共18分)

1個蛋糕 	1. ($\frac{1}{3}$) 個蛋糕
2. ($\frac{1}{6}$) 個蛋糕	3. ($\frac{1}{8}$) 個蛋糕

四 看圖回答問題。(每小題4分，共44分)

1. 這是1條生乳捲，
下面圖的塗色部分各是幾條生乳捲？連連看。

(1)		$\frac{1}{2}$ 條
(2)		$\frac{1}{3}$ 條
(3)		$\frac{1}{4}$ 條
(4)		$\frac{1}{9}$ 條
(5) $\frac{1}{9}$ 條生乳捲和 $\frac{1}{3}$ 條生乳捲， 哪一個比較大？圈圈看。 ($\frac{1}{9}$ 條 , $\frac{1}{3}$ 條)		

2. 右圖是1張圖畫紙，
下面塗色部分是 $\frac{1}{2}$ 張的()裡打 \checkmark 。

(1) (\checkmark)	(2) ()	(3) ()
(4) ()	(5) (\checkmark)	(6) (\checkmark)

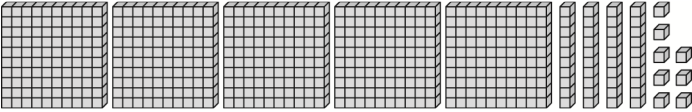
五 圈圈看。(每題4分，共12分)

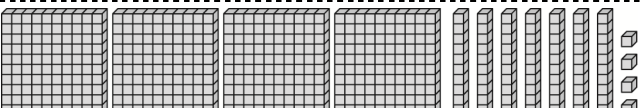
1. 把一個大餅等分分成12份，其中1份是($\frac{1}{12}$, $\frac{12}{1}$) 個大餅。

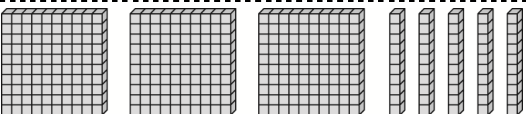
2. $\frac{1}{5}$ 條繩子是指1條繩子等分分成(1份 , 5份) 中的1份繩子。

3. 媽媽把1條芋頭捲等分分成8份，小兩吃了其 1份，小兩吃了($\frac{1}{8}$, $\frac{8}{8}$) 條芋頭捲。


一 數一數，並回答問題。(每格2分，共24分)


1.  有()個百、()個十和()個一，合起來是()。

2.  有()個百、()個十和()個一，合起來是()。

3.  有()個百、()個十和()個一，合起來是()。

二 錢包裡有多少錢？(每題2分，共4分)

1.  ()元

2.  ()元

三 在□裡填入<或>。(每題1分，共8分)

- 140 □ 148
- 867 □ 767
- 453 □ 403
- 700 □ 699
- 855 □ 859
- 750 □ 659
- 667 □ 701
- 899 □ 901

四 填填看。(每題2分，共14分)

- 6個百、2個十和1個一，合起來是()。
- 9個百和8個一，合起來是()。
- 764是()個百、6個十和4個一合起來的。
- 1張500、3張100和7個10，一共是()元。
- 1張500可以換()張100。
- 1張1000可以換()個10。
- 用9、8、0、4選出三個數，排出最大的三位數是()。

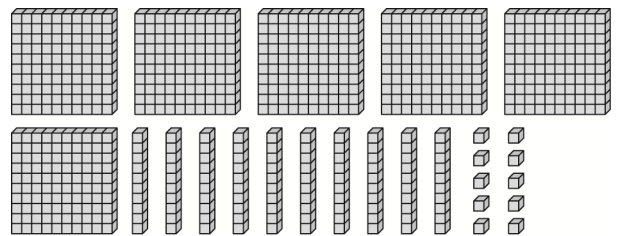
五 畫底線的數字表示什麼？連連看。(每題2分，共10分)

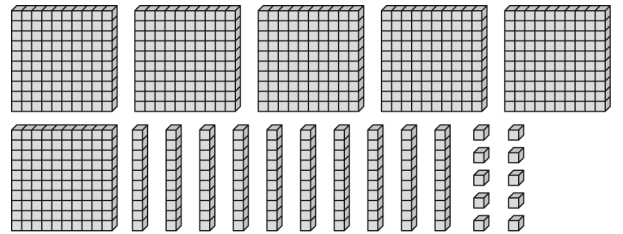
- 345 • • 300
- 435 • • 30
- 713 • • 30
- 563 • • 3
- 309 • • 13

六 依照數的順序填填看。(每格2分，共24分)



- 597—598—()—()—601—()
- 470—480—()—()—()—520
- 385—395—()—415—()—()
- 222—221—()—()—()—217

七 圈圈看。(每小題4分，共16分)

1. 圈出正確的數量。(1) 248 


(2) 561 

2. 誰的錢比較多？

<p>美惠</p> 	<p>娟娟</p> 
---	---

(美惠, 娟娟)的錢比較多

3. 宣宣買一本218元的故事書，要怎麼付錢才會剛好？




一 下面生活用品哪個比較重？

圈圈看。(每題4分，共16分)

1.

電風扇

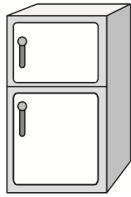
手套



2.

書包

冰箱



3.

籃球

羽毛球



4.

橡皮擦

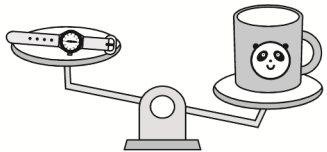
水壺



二 在()裡打✓。(每小題4分，共28分)

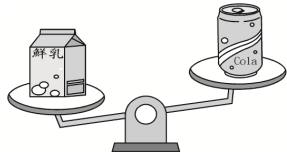
1. 比較輕的在()裡打✓。

(1)



() ()

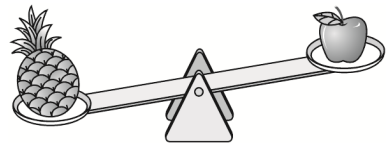
(2)



() ()

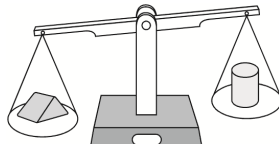
2. 比較重的在()裡打✓。

(1)



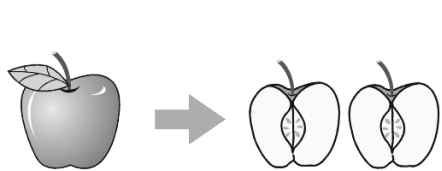
() ()

(2)



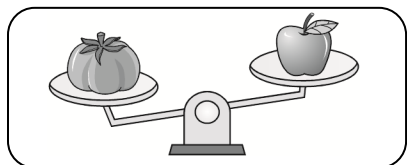
() ()

3. 把蘋果切成2塊，哪一個比較重？在()裡打✓。




- ()
- ()
- () 一樣重

4. 把下面天平兩端的水果交換位置後，哪張圖是正確的？




(1)



()


(2)



()

三 看圖做做看。(每答4分，共56分)

1.

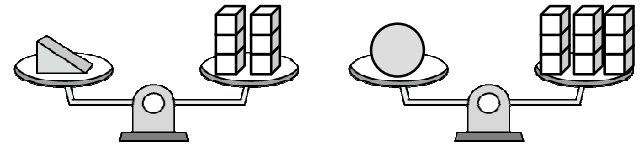


(1) 和()個一樣重。

(2) 和()個一樣重。

(3) (,) 比較重。

2. 看圖比比看，回答下面問題。



(1) 和()個一樣重。

(2) 和()個一樣重。


(3) 一個和一個，合起來和()個一樣重。

(4) 一個比一個重()個。

(5) 5個和()個一樣重。


(6) 3個和()個一樣重。

3. 比比看，比較重的打✓。



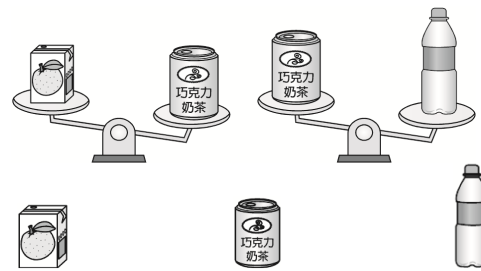
4. 比比看，最重的打✓，最輕的畫○。

(1)



() () () ()

(2)



() () ()

一 寫成直式算算看。(每題6分,共36分)

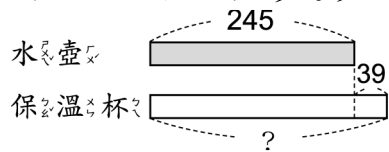
1. $168 + 351 = ()$ 2. $643 + 36 = ()$

3. $259 + 578 = ()$ 4. $736 - 24 = ()$

5. $574 - 327 = ()$ 6. $824 - 461 = ()$

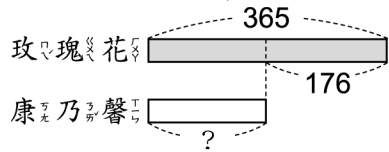
二 看圖算算看。(每題6分,共12分)

1. 一個水壺賣 245 元, 一個水壺比一個保溫杯便宜 39 元, 一個保溫杯要多少元?



答：() 元

2. 花店有 365 朵玫瑰花, 玫瑰花比康乃馨多 176 朵, 花店有幾朵康乃馨?



答：() 朵

三 估估看, 把對的答案圈起來。(每題6分,共12分)

1. 叔叔買 498 元的字典和一本 296 元的相簿, 大約是幾百元?
(500 元, 700 元, 800 元)。

2. 宜恩有 500 元, 他買一個 297 元的水壺後, 剩下的錢夠買一個 295 元的書包嗎?
(夠, 不夠)。

四 先記錄問題, 再算算看。(每題8分,共40分)

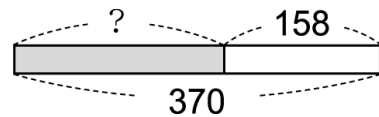
1. 超商裡有 158 瓶可樂和 193 瓶果汁, 這兩種飲料共有幾瓶?

答：() 瓶

2. 早餐店做了 238 個漢堡, 賣出 176 個, 早餐店剩下幾個漢堡?

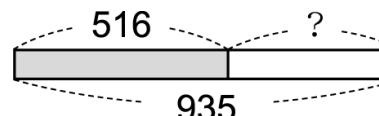
答：() 個

3. 箱子裡有一些紙張, 媽媽又放進 158 張, 箱子裡共有 370 張。箱子原本有幾張紙?



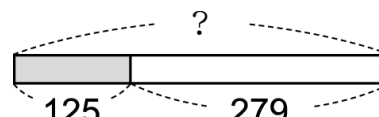
答：() 張

4. 圖書館裡有 516 本歷史故事書和一些漫畫書, 這兩種書籍共有 935 本。圖書館裡有幾本漫畫書?



答：() 本

5. 妮妮有一些錢, 到文具店買了 125 元的水彩, 還剩下 279 元。妮妮原本有幾元?


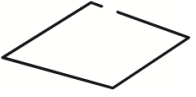
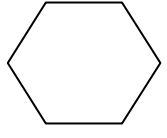
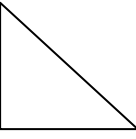




答：() 元

一 對的畫○，錯的打X。(每題3分，共15分)

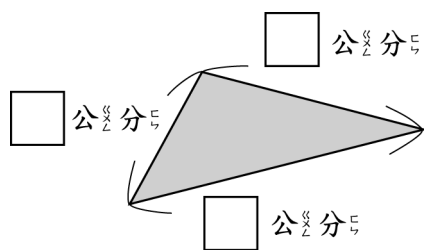
- () 長方體的每一個面都是正方形。
- () 長方體的每一條邊都一樣長。
- () 正方體和長方體都有4個面。
- () 正方形的每一條邊都一樣長。
- () 正方形和長方形都有4個角。

二 哪些圖形有周界？請打✓。(每題1分，共6分)

- | | | |
|---|---|---|
| 1. 
() | 2. 
() | 3. 
() |
| 4. 
() | 5. 
() | 6. 
() |

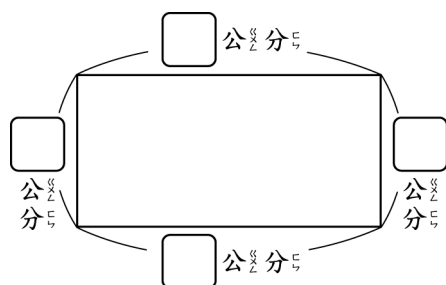
三 先量出圖形的邊長，再算出圖形的周長。(每格3分，共27分)

1. 三角形



周長是()公分。

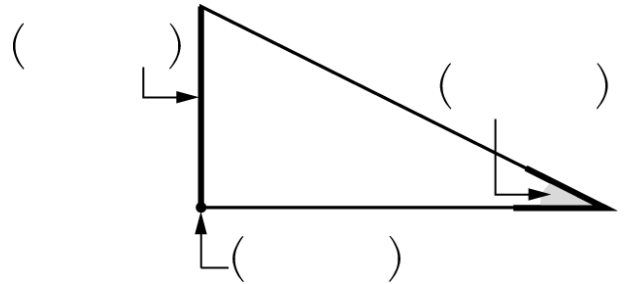
2. 長方形



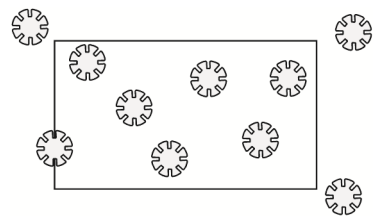
周長是()公分。

四 看圖回答問題。(每格4分，共36分)

1. 填入下面圖形的「邊」、「角」或「頂點」。

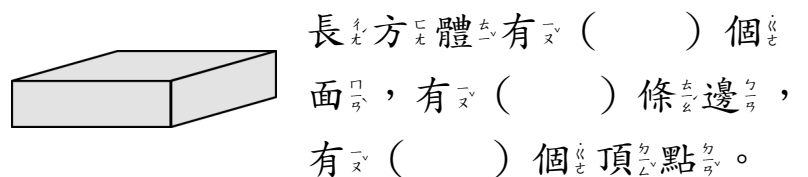


2. 澤言在丟花片，他在地上畫了一個長方形。

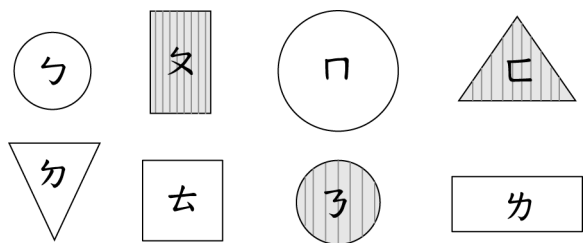


- 長方形內部有()個花片。
- 長方形外部有()個花片。
- 長方形周界上有()個花片。

3. 下面是個長方體。



五 看圖分一分，用代號記錄下來。(每答1分，共16分)

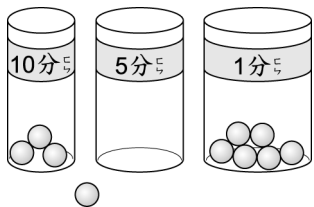


有角		沒有角	
有花紋	沒有花紋	有花紋	沒有花紋

一 把答案一樣的计算式連起來。
 (每題2分，共10分)

- | | | |
|------------------|---|---------------|
| 1. 3×8 | • | 2×10 |
| 2. 10×2 | • | 8×3 |
| 3. 7×6 | • | 6×7 |
| 4. 4×3 | • | 5×9 |
| 5. 9×5 | • | 3×4 |

二 看圖填填看。小玉玩投球遊戲，沒有丟進的球得0分，下面是他丟球的結果。(每格2分，共34分)



1. 小玉每種分數各得幾分？寫出乘法算式。

- (1) 丟進10分的有()個。
 得分： $() \times () = ()$
- (2) 丟進5分的有()個。
 得分： $() \times () = ()$
- (3) 丟進1分的有()個。
 得分： $() \times () = ()$
- (4) 沒有丟進的有()個。
 得分： $() \times () = ()$

2. 小玉共得()分。

三 完成下面表格，再回答問題。
 (每格2分，共14分)

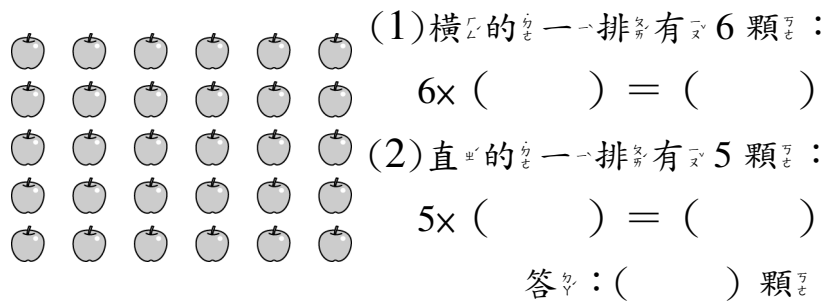
乘數

×	3	5	7	8
被乘數	3	9	21	
乘數	5	15		40
數	7	21	35	

寫出積都是35的乘法算式。

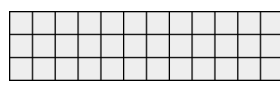
四 看圖做做看。(每答2分，共18分)

1. 共有幾顆蘋果？填填看。

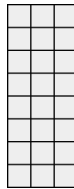


2. 把表示圖片中□數量的算式連起來。

①



②



• $\hookrightarrow 12 \times 3$

• $\hookrightarrow 3 \times 8$

• $\square 3 \times 12$

• $\square 8 \times 3$

五 寫出乘法算式做做看。(每題6分，共24分)

1. 一束花有12朵，曉萱買了3束，共有幾朵花？

答：()朵

2. 一盒有3個月餅，爸爸做了13盒，爸爸共做了幾個月餅？

答：()個

3. 做一串手鍊要11顆珠子，美環做了2串，共要幾顆珠子？


答：()顆

4. 一包有14顆糖果，斑比買了2包，共有幾顆糖果？

答：()顆

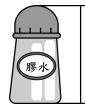
一 生活中，下面哪一些物品比1公尺長？請打 \checkmark 。(每題2分，共12分)

1. 大貨車



()

2. 膠水



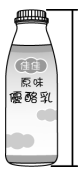
()

3. 床



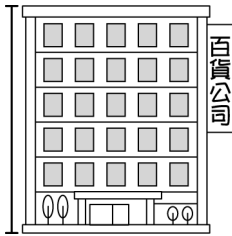
()

4. 優酪乳



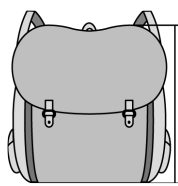
()

5. 大樓



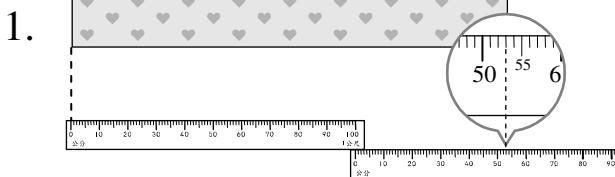
()

6. 書包




()

二 填填看看。(每格3分，共48分)



緞帶的長度是()公尺
()公分，也可以說是
()公分。



腳踏車的長度是()公尺
()公分，也可以說是
()公分。

3. 班級書櫃的長和3條1公尺的繩子接起來一樣長，是()公尺。

4. 籃球場場地的長和28條1公尺的繩子接起來一樣長，是()公尺。

5. 7公尺=()公分

6. 6公尺8公分=()公分

7. 570公分=()公尺()公分

8. 289公分=()公尺()公分

9. 4公尺32公分=()公分

10. 7公尺20公分=()公分

三 圈出適當的單位。(每題4分，共16分)

1. 一枝鉛筆長18(公尺, 公分)。

2. 籃球框高3(公尺, 公分)。

3. 桌子高95(公尺, 公分)。

4. 布告欄長3(公尺, 公分)。

四 把長度一樣長的連起來。

(每條連線2分，共6分)

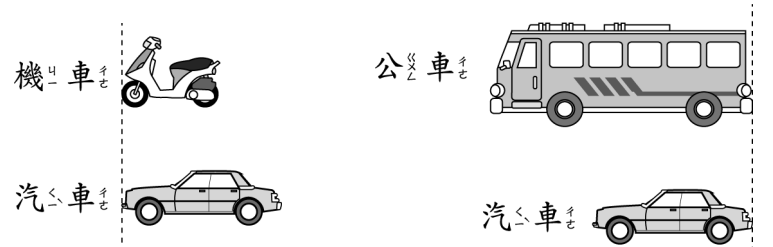
1. 1公尺50公分 • 501公分

2. 5公尺1公分 • 150公分

3. 1公尺5公分 • 105公分

五 做做看看。(每答3分，共18分)

1. 看圖圈圈看看。



(1) (機車, 汽車) 的車身比較長。

(2) (公車, 汽車) 的車身比較長。

(3) 機車和公車，哪個比較長？
(機車, 公車) 的車身比較長。

2. 公園的椰子樹比梯子高，梯子比榕樹高，椰子樹和榕樹，哪一棵樹比較高？

(椰子樹, 榕樹) 比較高。

3. 婷婷一叔大約長10公分，教室窗戶長度和婷婷6叔一樣長，教室窗戶長度大約長()公分；海報長度和婷婷9叔一樣長，海報長度大約長()公分。

一 填填看看。(每格2分,共28分)

1. 一瓶牛奶賣 10 元, 琦琦買了 6 瓶後, 錢包還剩下 36 元, 琦琦的錢包原來有幾元?

() × () = ()

() + () = ()

答: () 元

2. 一包蛋餅有 8 片, 媽媽買了 5 包, 吃掉 9 片後, 還剩下幾片蛋餅?

() × () = ()

() - () = ()

答: () 片

二 哪個做法是對的? 請在 ()

中打✓。(每題4分,共8分)

1. 出版社在辦書展, 繪本每 8 本堆成一疊, 堆成 9 疊會不夠 3 本繪本, 原本有幾本繪本?

() ㄅ $8 \times 9 = 72, 72 - 3 = 69$

() ㄆ $8 \times 3 = 24, 24 - 9 = 15$

2. 一盒布丁有 9 個, 妮妮買了 4 盒, 琦琦買了 6 盒, 妮妮比琦琦少買幾個布丁?

() ㄅ $9 \times 4 = 36, 36 + 4 = 40$

() ㄆ $6 - 4 = 2, 9 \times 2 = 18$

三 先算什麼? 再算什麼? 做做看看。

(每題8分,共32分)

1. 體操表演中, 每隊各有 5 個男生和 3 個女生, 有 7 隊參加表演, 共有幾個人?

答: _____

2. 1 包小籠包有 7 個, 媽媽買了 5 包, 美美吃了 4 個後, 還剩下幾個小籠包?

答: _____

3. 文郁買了一包毛球做吊飾, 一個吊飾需要 6 個毛球, 文郁做了 4 個吊飾後, 還剩下 21 個毛球, 這包毛球原來有幾個?

答: _____

4. 一瓶紅茶 17 元, 特價期間每瓶只賣 10 元, 雨蓁買了 5 瓶, 比原來的價錢共便宜幾元?

答: _____

四 先算什麼? 再算什麼? 看看圖

做做看看。(每題8分,共32分)

水餃 煎餃 豆漿 小籠包



1. 安安買了 8 個煎餃加 1 杯豆漿, 共要付多少元?

答: _____

2. 秋紋買了 10 個水餃, 她付了 50 元, 會找回幾元?

答: _____

3. 安娜買了 6 個小籠包, 哥哥也買了 6 個小籠包, 共要付幾元?

答: _____

4. 小郁買了 7 個煎餃, 小花買了 12 個煎餃, 小花比小郁多付幾元?

答: _____

一 填填看看。(每格3分,共30分)




- 今天()是()民國()110年()的()12月()31日(),明天()就()是()民國() ()年() ()月() ()日()。
- 連續()天()就()是()一個()星()期()。
- 每一()年()的()第()三()個()月()是() ()月(),第()四()個()月()是() ()月()。
- 爸爸()的()會()員()卡()再()過()14個()月()就()到()期(),14個()月()也()可()以()說()是() ()年() ()個()月()。
- 隔壁()的()沈()姐()姐()到()英()國()遊()學()了()1年()3個()月(),也()可()以()說()是() ()個()月()。
- 冬冬()的()貓()咪()已()經()1歲()9個()月()大(),也()可()以()說()是() ()個()月()大()。

二 看看月曆填填看看。(每格3分,共18分)

4月							5月						
日	一	二	三	四	五	六	日	一	二	三	四	五	六
					1	2	3						1
4	5	6	7	8	9	10	2	3	4	5	6	7	8
11	12	13	14	15	16	17	9	10	11	12	13	14	15
18	19	20	21	22	23	24	16	17	18	19	20	21	22
25	26	27	28	29	30		23	24	25	26	27	28	29
							30	31					

- 4月()有()個()星()期()又() ()天(),5月()有()個()星()期()又() ()天()。
- 冬冬()從()4月()29日()到()5月()5日()要()進()行()游()泳()訓()練(),一()共()有() ()天(),是()1個()星()期()嗎()? ()

三 今天()是()1月()28日(),曉()婷()買()了()3盒()餅()乾(),哪()一()盒()餅()乾()的()保()存()期()限()最()先()到()?依()照()順()序()填()入()1~3。(每題4分,共12分)

<p>1.</p> <div style="border: 1px solid black; padding: 5px; width: fit-content; margin: 0 auto;">有效日期 8月3日</div>  <p>()</p>	<p>2.</p> <div style="border: 1px solid black; padding: 5px; width: fit-content; margin: 0 auto;">有效日期 4月30日</div>  <p>()</p>	<p>3.</p> <div style="border: 1px solid black; padding: 5px; width: fit-content; margin: 0 auto;">有效日期 5月18日</div>  <p>()</p>
---	---	---

四 看看月曆回答問題。(每答4分,共24分)

民國110年8月						
日	一	二	三	四	五	六
1	2	3	4	5	6	7
8	9	10	11	12	13	14
15	16	17	18	19	20	21
22	23	24	25	26	27	28
29	30	31				

- 8月()有()天(),這()個()月()是() ()大()月(),()小()月()。
- 偶像()團()體()從()8月()26日()到()8月()29日()在()大()巨()蛋()舉()行()演()唱()會(),演()唱()會()共()舉()行()了() ()天()。
- 書()展()從()8月()4日()開()始(),展()出()12天(),在() ()月() ()日()結()束()。
- 今()天()是()8月()11日(),小()娟()的()暑()假()到()8月()29日()結()束(),小()娟()的()暑()假()包()含()今()天(),還()有() ()天()。

五 先圈圈看看,再填填看看。

(每題8分,共16分)

- 姐()姐()從()8月()25日()開()始()織()圍()巾(),織()了()9天()才()完()成(),圍()巾()是() ()月() ()日()完()成()的()。

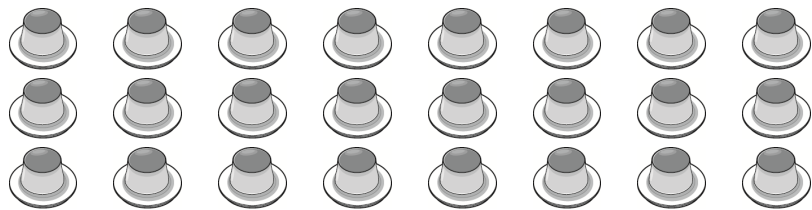
8月							9月						
日	一	二	三	四	五	六	日	一	二	三	四	五	六
1	2	3	4	5	6	7				1	2	3	4
8	9	10	11	12	13	14	5	6	7	8	9	10	11
15	16	17	18	19	20	21	12	13	14	15	16	17	18
22	23	24	25	26	27	28	19	20	21	22	23	24	25
29	30	31					26	27	28	29	30		

- 文()化()公()園()舉()辦()1個()星()期()的()音()樂()會(),在()11月()24日()結()束()。音()樂()會()是()從() ()月() ()日()開()始()。

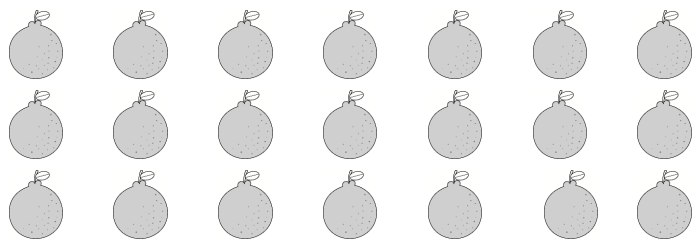
11月						
日	一	二	三	四	五	六
	1	2	3	4	5	6
7	8	9	10	11	12	13
14	15	16	17	18	19	20
21	22	23	24	25	26	27
28	29	30				

一 圈圈看，填填看。(每題8分，共24分)


1. 有 24 個布丁，每 3 個裝成一盒，可以裝成 () 盒。



2. 有 21 顆橘子，每 7 顆裝成一袋，可以裝成 () 袋。



3. 有 32 個人，每 8 個人分成 1 組，可以分成 () 組。



二 正確的打✓。(每小題4分，共28分)

1. 把 6 顆球分給 3 個小朋友，下面哪一個是平分？



2. 可以剛好分完，且分到的數量一樣多的在 () 裡打✓。

- (1) () 16 顆草莓平分給 4 個人。
- (2) () 18 顆皮球平分給 7 個人。
- (3) () 20 顆水梨平分給 5 個人。

3. 桌上有 36 個果凍。分給幾個人可以剛好分完，且分到的數量一樣多？

- (1) () 分給 5 個人。
- (2) () 分給 6 個人。

三 填填看。(每格4分，共16分)

1. 桌上有 40 顆巧克力。

(1) 每個人分 4 顆，可以分給 () 個人。

(2) 每個人分 5 顆，可以分給 () 個人。

2. 桌上有 12 顆荔枝。

(1) 平分給 4 個人，每個人可以分到 () 顆荔枝。

(2) 平分給 6 個人，每個人可以分到 () 顆荔枝。

四 把做法用算式記下來，並算出答案。(每題8分，共32分)

1. 妮妮把 30 張色紙分裝，每 5 張裝成一包，可以分成幾包？

答：_____

2. 阿姨有 27 顆番茄要分給小朋友，每 9 顆分給 1 個人，可以分給幾個個人？

答：_____

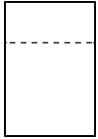
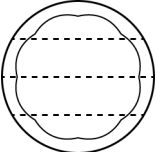
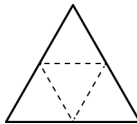
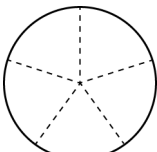
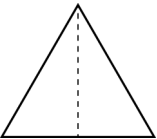
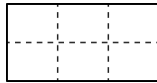
3. 將 48 枝筆平分給 8 個人，剛好分完，每個人分到幾枝筆？

答：_____


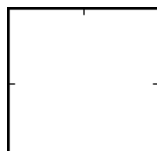

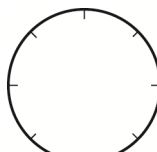
4. 桌上有 35 顆糖果，平分裝在 7 個盒子裡，每個盒子有幾顆糖果？

答：_____


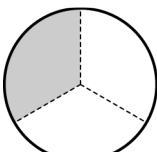
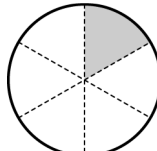
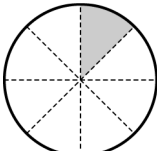
一 下面有等分分的在()裡打 \checkmark 。
(每題3分，共18分)

1.  ()	2.  ()	3.  ()
4.  ()	5.  ()	6.  ()


二 先分分看。再塗一塗。
(每題4分，共8分)

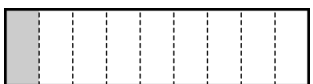



1. 1塊餅乾 	把 $\frac{1}{2}$ 塊餅乾 塗上顏色。 
2. 1個披薩 	把 $\frac{1}{4}$ 個披薩 塗上顏色。 

三 塗色部分是多或少個蛋糕？用分數填填看。(每題6分，共18分)

1 個蛋糕 	1.  () 個蛋糕
2. 	3.  () 個蛋糕

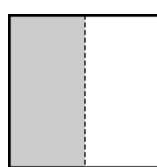
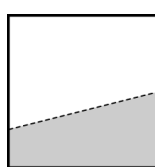
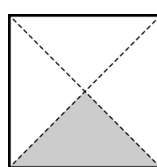
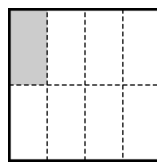

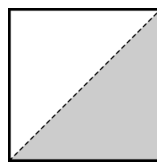
四 看圖回答問題。(每小題4分，共44分)

1.  這是1條生乳捲，
下面圖的塗色部分各是幾條生乳捲？連連看。

(1) 	•	•	$\frac{1}{2}$ 條
(2) 	•	•	$\frac{1}{3}$ 條
(3) 	•	•	$\frac{1}{4}$ 條
(4) 	•	•	$\frac{1}{9}$ 條

(5) $\frac{1}{9}$ 條生乳捲和 $\frac{1}{3}$ 條生乳捲，
哪一個比較大？圈圈看。
($\frac{1}{9}$ 條 , $\frac{1}{3}$ 條)

2. 右圖是1張圖畫紙，
下面塗色部分是 $\frac{1}{2}$ 張的()裡打 \checkmark 。

(1) 	(2) 	(3) 
(4) 	(5) 	(6) 

五 圈圈看。(每題4分，共12分)

1. 把一個大餅等分分成12份，其中1份是($\frac{1}{12}$, $\frac{12}{1}$) 個大餅。

2. $\frac{1}{5}$ 條繩子是指1條繩子等分分成(1份 , 5份) 中的1份繩子。

3. 媽媽把1條芋頭捲等分分成8份，小雨吃了其中1份，小雨吃了($\frac{1}{8}$, $\frac{8}{8}$) 條芋頭捲。